

6.05.2020 środa

Dzień dobry drodzy Uczniowie,

chciałabym, abyście w dniu dzisiejszym poćwiczyli wykonywanie obliczeń zegarowych, proszę, abyście zadania w miarę możliwości wykonywali samodzielnie. W ramach edukacji polonistycznej przypomnieć sobie kilka informacji o polskich legendach.

Oto przygotowane zadania na dzisiaj:


Edukacja matematyczna

Temat: Obliczenia zegarowe – zadania utrwalające.

1. Otwórz zeszyt do matematyki, zapisz temat.
2. Przerysuj tabelę do zeszytu uzupełnij puste pola. *(Jeżeli masz możliwość wydrukowania tabeli, możesz wydrukować je wkleić do zeszytu i uzupełnić).* Aby ułatwić sobie obliczanie wykorzystaj zegar lub model zegara.

/Drodzy Uczniowie, podczas wykonywania zadania tego zadania zwróćcie uwagę, co oznacza stwierdzenie: ... minut później – to znaczy, że przesuwamy wskazówkę minutową do przodu./


15 minut później



3.00	9.45	5.15	20.30	10.25	14.05
3.15					

/Drodzy Uczniowie, podczas wykonywania zadania tego zadania zwróćcie uwagę, co oznacza stwierdzenie: ... minut wcześniej – to znaczy, że przesuwamy wskazówkę minutową do tyłu, czyli ją cofamy./

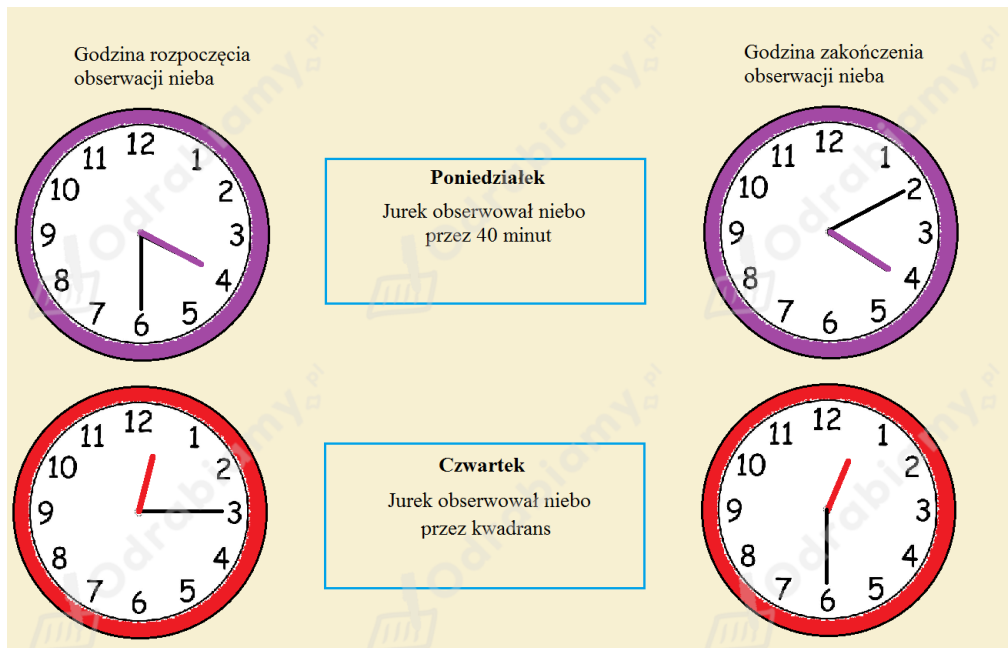
20 minut wcześniej



15.20					
15.40	8.20	7.45	21.55	18.35	11.27

6.05.2020 środa

3. Przeczytaj informacje w ramce dotyczącej obserwacji nieba przez Jurka. Zwróć uwagę w jaki sposób zaznaczono godziny na zegarach.



4. Odczytaj wskazane godziny na zegarach. Przeczytaj informację znajdującą się po prawej stronie zegarów i oblicz, która będzie godzina. **Nie przerysowuj zegarów, w zeszyte zapisz odpowiedzi według wzoru:**

Zad. 4. a) Będzie godzina 14.00.

b) Będzie godzina

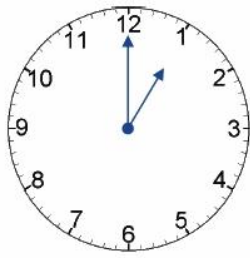
c) Będzie godzina

d) Będzie godzina

e) Będzie godzina

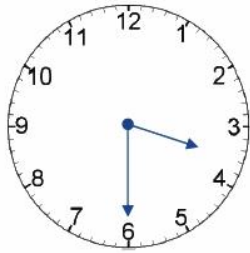
6.05.2020 środa

a)



Jest godzina 13.00.
Która godzina będzie za
60 minut?

b)



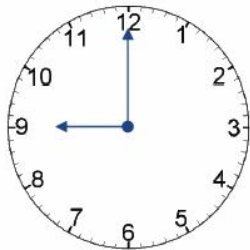
Jest godzina 15.30.
Która godzina będzie za
15 minut?

c)



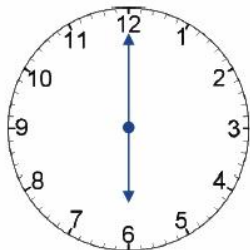
Jest godzina 16.15.
Która godzina będzie za
kwadrans?

d)



Jest godzina 21.00.
Która godzina będzie za
30 minut?

e)



Jest godzina 18.00.
Która godzina będzie za
pół godziny?

ZADANIA DLA CHĘTNYCH:

- <https://www.minstructor.pl/public/view/5631256269160448>

- podręcznik do matematyki strona 49 ćw. 6,7,8 / w zeszycie możesz wpisać tylko stronę, numer zadania i odpowiedzi/

6.05.2020 środa

Edukacja polonistyczna, edukacja polonistyczna.

Temat: Legendy o polskich miastach.

1. Otwórz zeszyt do j. polskiego zapisz temat.
2. Obejrzyj i wykonaj zadania zawarte w prezentacji „Legendy o polskich miastach”, która przygotowana jest na podstawie naszego podręcznika i ćwiczeń:

/zmieniaj slajd prezentacji strzałką znajdującą się po prawej stronie ekranu, przechodź do następnego slajdu dopiero po wykonaniu zadania/

<https://view.genial.ly/5e998347794b240e24bf3040/presentation-legendy-o-polskich-miastach?fbclid=IwAR3l4sbft9MURIH3-Q69NU6KhoePuTN4jYIML-pzkXYVEpNbBKVdEOB-2cw>

Pamiętaj, wykonaj ćwiczenia, które znajdują się w kartach ćwiczeń str. 15 i 16.

3. Zapisz w zeszycie notatkę:

Zapamiętaj!

Niektóre często używane wyrazy skracamy aby uprościć ich zapis.

W tych skrótach na końcu stawiamy kropkę:

np. – na przykład,

ul. – ulica,

pt. – pod tytułem,

itd. – i tak dalej.

Nie stawiamy kropki, gdy skrót kończy się taką samą literą jak wyraz, który skracamy:

mgr – magister,

nr – numer,

dr – doktor.

Powodzenia!