

Andrychów, 02.04.2020r.

**Dzień dobry, Kochana Klaso! ☺**

Mam nadzieję, że nie macie mi za złe wczorajszego żartu z 'listem-zmyłką'. Obiecuję, że to się już więcej nie powtórzy... (No przynajmniej do przyszłego roku i kolejnego Prima Aprilis). Wasze psikusy, które do mnie dotarły, też były fantastyczne! Bardzo za nie dziękuję ☺. Po takiej dawce śmiechu i dobrego humoru możemy dziś przystąpić do pracy ze zdwojoną siłą. To co, zaczynamy?

#### Edukacja polonistyczna i plastyczna:

- Obejrzyjcie krótką prezentację pt. „10 faktów o wiosnie” , dostępną na pod adresem: <https://www.eduelo.pl/prezentacja/poziom-ii/przyroda/pory-roku/795/> Na jej podstawie wykonajcie w ćwiczeniach zad. 1. (bez kropki) oraz 3. na str. 68.

- Spróbujcie rozwiązać krótki quiz o wiosnie, który czeka na Was na stronie:

<https://www.eduelo.pl/quiz/128/czesc/1/>

- W zeszytcie do edukacji polonistycznej zapiszcie datę dzisiejszą (sposobem pierwszym) oraz temat: Witaj wiosenko!

Narysujcie w zeszytcie ilustrację (na całą stronę), która pasuje do tekstu z podręcznika ze str. 77 – przeczytajcie go sobie wcześniej. Poproście kogoś w domu, aby podyktował Wam trzy dowolne zdania z tego tekstu – zapiszcie je bez patrzenia do podręcznika (to tzw. pisanie ze słuchu). Na zakończenie sprawdźcie, czy nie popełniliście błędów. Jeśli tak – poprawcie je.

#### **Dla chętnych:**

<https://klikankowo.jimdofree.com/edukacja-spo%C5%82eczna-przyrodnicza/pory-roku/wiosna/> -

czeka tam na Was 'wiosenny pokój zagadek'

#### Edukacja matematyczna:

- Zaczynamy jak zwykle od rozgrzewki. Wykonajcie krok 4. z naszej puli zadań, ukrytej pod linkiem:

<https://www.xn--tabliczkamnoenia-0rd.pl/mnozenie-przez-6.html>) Gotowe? SUPER!

- Kochani, o kim myślicie, gdy słyszycie słowo RODZINA? Zastanówcie się przez chwilę...

- Dziś chciałabym, abyście poznali pewną nietypową, 'geometryczną' rodzinę. Co to takiego? Obejrzyjcie sami: [https://www.youtube.com/watch?v=53uwP8RTFol&feature=emb\\_title](https://www.youtube.com/watch?v=53uwP8RTFol&feature=emb_title)

- Czy już wiecie, co to za 'RODZINA FIGUR GEOMETRYCZNYCH'. Należą do niej wszystkie figury, które znacie (i nie tylko te). Sprawdźcie, czy potraficie prawidłowo rozpoznać i nazwać niektóre z nich:

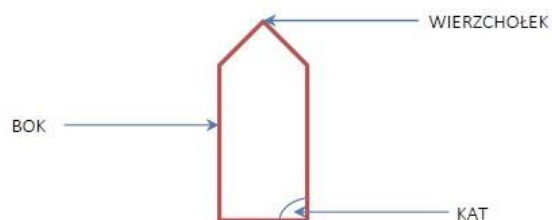
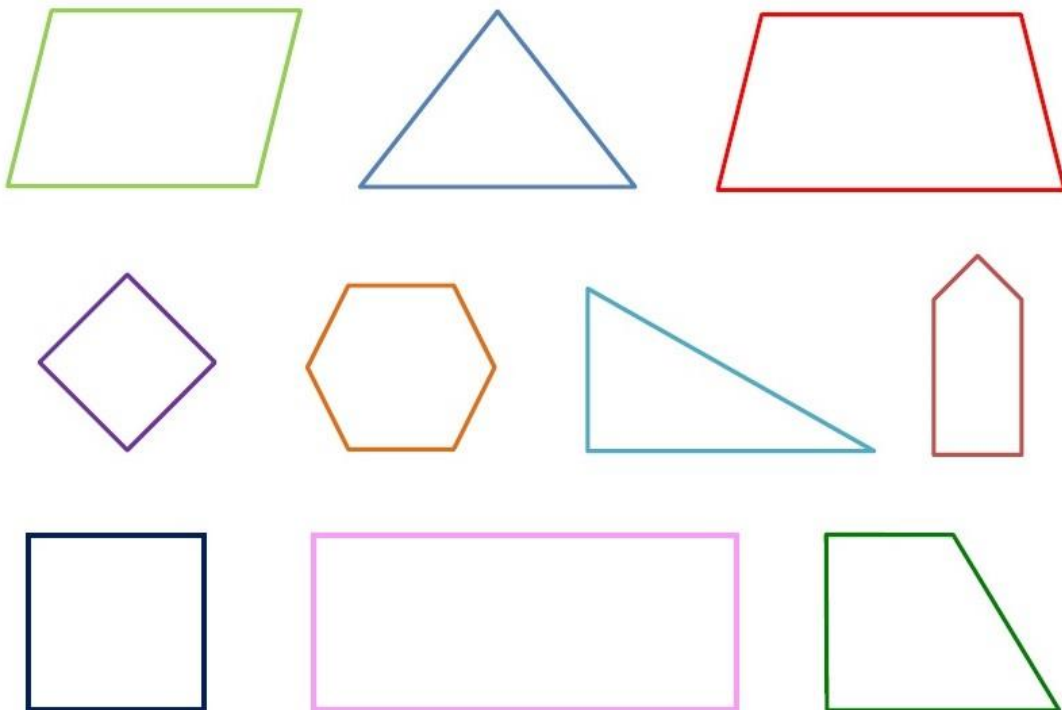
<https://www.eduelo.pl/quiz/557/czesc/1/>

- W tej rodzinie mamy grupę figur, którą nazywamy wielokątami. Czy wiecie, po czym je rozpoznać? Odpowiedź znajdziecie w podręczniku (s. 12) lub na ilustracji poniżej:

### FIGURY GEOMETRYCZNE – WIELOKĄTY

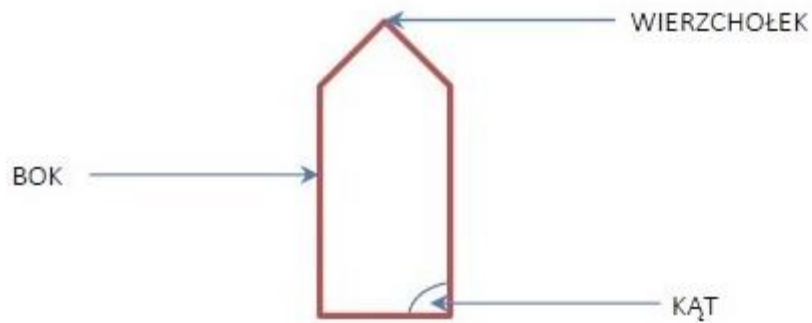
<https://mala275.blogspot.com>

*Każdy wielokąt ma boki, kąty i wierzchołki.*



- Proszę, zapiszcie w zeszycie do matematyki datę (sposób dowolny) oraz temat: Poznaję rodzinę wielokątów. Następnie przepiszcie zdanie i przerysujcie obrazek:

*Każdy wielokąt ma boki, kąty i wierzchołki.*



- Dowiedzieliście się z filmiku, że WIELOKĄTY nazywamy także WIELOBOKAMI. Czy domyślacie się, dlaczego? Figury te mają bowiem wiele kątów (przynajmniej 3), stąd nazwa WIELOKĄTY. Mają też wiele boków (minimum 3) – dlatego mówimy o nich także WIELOBOKI.

**Czy – w takim razie - koło należy do wielokątów?**

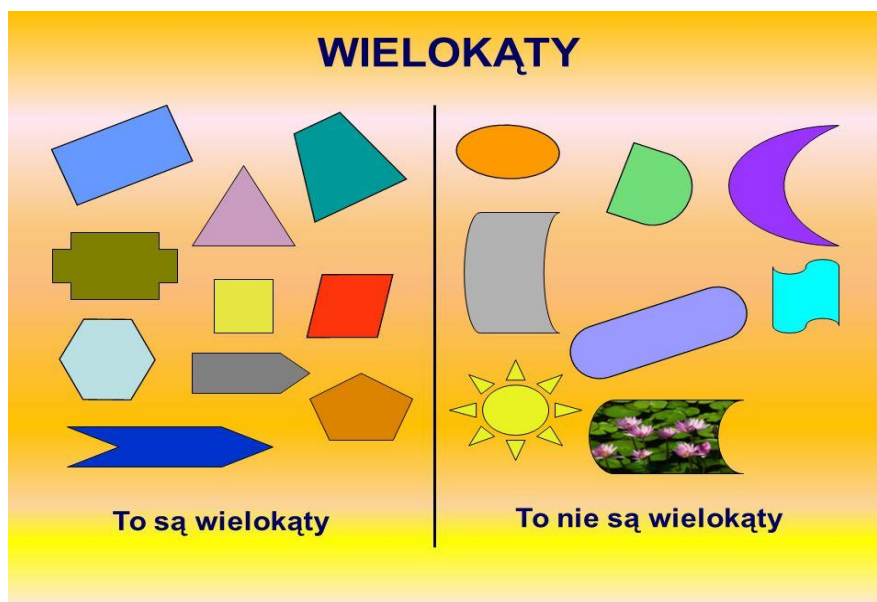
Oczywiście, że nie. Nie mają boków ani kątów.

**A czy wiecie, jaka nazywa się ten najmniejszy wielokąt, który ma trzy boki i trzy kąty?**

Sprawdźcie sami:

<http://www.sp.raczk.nidzica.pl/PROJEKT-Jestem-zdolny-tylko/sceriusze-zajec/zajecia-asia/trojkat.jpg>

- Otwórzcie podręczniki na str. 12 i wykonajcie zad. 3. (Skorzystajcie z ilustracji z wielokątami w podręczniku lub z obrazka zamieszczonego poniżej).



- Na zakończenie dzisiejszej przygody z wielokątami rozwiążcie zadanie 1. i 2. w ćwiczeniach (s. 10).

**Dla chętnych:**

[https://www.matzoo.pl/klasa3/jaka-figura\\_77\\_510](https://www.matzoo.pl/klasa3/jaka-figura_77_510) - to zadanie z poziomu klasy 3, ale dla Was to będzie 'bułka z masłem' ☺

- Możecie wykonać zadanie 7. z podręcznika (s. 13) – potrzebne będą nożyczki i kartka A4.

**Trzymam kciuki za Was! ☺**

Pani Kasia

P.S. Ponieważ Wasze primaaprilisowe dowcipy bardzo mi się podobały, postanowiłam je nagrodzić. Maja i Franek zdobywają razem 20 makaronów na klasowe konto. Mamy ich teraz w słoiku...



**BRAWO!**